

# Geografická olympiáda



## Otestovali ste si svoje vedomosti z geografie

Dňa 2. februára 2017 pred prázdninami od 15:00 do 16:00 hodiny online na [www.mapaslovakia.sk](http://www.mapaslovakia.sk) v sekcii geografická olympiáda.

### Školské kolo geografickej olympiády pre stredné školy

45. ročník, školský rok 2016/2017

#### Správne riešenia úloh:

Medzinárodná geografická olympiáda IGEO sa tohto roku bude konať v Srbsku. Preto sa vo väčšine otázok spomína alebo porovnáva táto krajina s inými. Každá z otázok má práve jedno správne riešenie.

01. V ktorom z uvedených dní bude v Belehrade najdlhšia noc (tma počas 24 hodín)?

A) 5. 2. 2017 B) 18. 4. 2017 C) 2. 7. 2017 D) 28. 11. 2017

02. Aká je (približne) najkratšia cestná vzdialenosť z Bratislavy do Belehradu?

A) 200 km B) 500 km C) 800 km D) 1 000 km

03. Ktoré pásmo zasahuje na územie Srbska?

A) Sahel B) tajga C) lesy mierneho pásma D) tundra

04. Čo znázorňuje veková pyramída Srbska?

A) počet, pohlavie a vekové zloženie obyvateľstva

B) priemernú dĺžku života obyvateľstva

C) prirodzený prírastok obyvateľstva

D) prirodzený úbytok obyvateľstva

05. Dnes vyšlo Slnko v Piešťanoch o 07.18 hod SEČ. O koľkej hodine SEČ dnes vyšlo Slnko v meste Zaječar na východe Srbska?

A) 06.45

B) 07.18

C) 07.39

D) 07.58

06. Ktorý z uvedených štátov zaberá na glóbose v mierke 1:20 000 000 menšiu plochu ako Srbsko?

A) Holandsko B) Taliansko C) Mali D) Bolívia

07. Určte približný výškový rozdiel medzi **najnižšie** položenými bodmi Slovenska a Srbska.

A) 66 m B) 142 m C) 221 m D) 301 m

08. Do akého úmoria patrí väčšina povrchu Srbska?

A) Čierneho mora B) Jadranského mora C) Egejského mora D) Baltského mora

09. Ktoré z uvedených klimatických faktorov **najviac** ovplyvňujú klímu Srbska?

A) monzúny

B) pasáty

C) nadmorská výška D) zalesnenosť územia

10. Koľko štátov leží vo vzdialenosti menšej ako 100 km od hraníc Srbska?

A) 4-6

B) 7-9

C) 10-12

D) 13-15

11. Aký je vzájomný vzťah EÚ a Srbska?

A) Srbsko je členom EÚ

B) Srbsko sa uchádza o členstvo v EÚ

C) Srbsko bolo členom EÚ

D) Srbsko bolo vylúčené z EÚ

12. Ktoré z uvedených miest je najbližšie k stredu Zeme?

A) Peking

B) Sydney

C) Belehrad

D) Bratislava

13. Približne o koľko ľudí sa ročne zvýši počet obyvateľov Zeme?

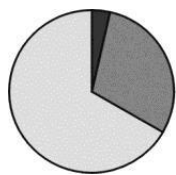
A) o celkový počet obyvateľov Luxemburska

B) o celkový počet obyvateľov Srbska

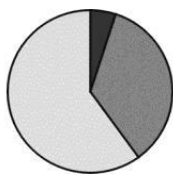
C) o celkový počet obyvateľov Maďarska

D) o celkový počet obyvateľov Turecka

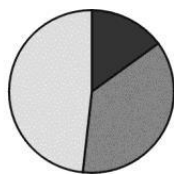
14. Ktorý z diagramov zodpovedá približne štruktúre podielu produktivity hospodárstva Srbska v súčasnosti?



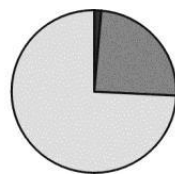
A)



B)



C)



D)



15. Približne koľko obyvateľov Srbska žije v mestách?  
A) 1 mil. B) 4 mil. C) 10 mil. D) 15 mil.
16. Ktorá z uvedených pamiatok UNESCO sa nachádza na území Srbska?  
A) Stari Raz a Sopočani B) Hévíz C) Dubrovnik D) Krakov
17. Ktorý z uvedených štátov mal podľa oficiálnych údajov v roku 2017 **menej** obyvateľov ako Srbsko?  
A) Kazachstan B) Slovinsko C) Egypt D) Bangladéš
18. V ktorom z uvedených storočí bolo Srbsko celých sto rokov pod nadvládou Osmanskej ríše?  
A) 10. storočie B) 12. storočie C) 16. storočie D) 19. storočie
19. Ktorí z uvedených mužov bol najvýznamnejším politikom v histórii Srbska?  
A) de Gaulle B) Lenin C) Tito D) Marx
20. Ktoré vierovyznanie má v Srbsku podľa oficiálnych štatistík najviac vyznávačov?  
A) kresťanstvo B) islam C) budhizmus D) judaizmus
21. Srbsko podporuje v otázke riešenia krízy v Sýrii stanovisko:  
A) USA B) Francúzska C) Ruska D) Nemecka
22. Ktorý z uvedených regiónov Srbsko odmieta uznať ako samostatný štát?  
A) Izrael B) Čiernu Horu C) Kosovo D) Chorvátsko
23. Aká mena sa oficiálne používa v Srbsku?  
A) toliar B) dinár C) lei D) lev
24. Aká dlhá je čiara, ktorá znázorňuje dĺžku 18 km túry v okolí Nišu na turistickej mape v mierke 1:100 000?  
A) 1,8 cm B) 9 cm C) 18 cm D) 36 cm
25. V Srbsku sa najviac používa na komunikáciu písomná forma:  
A) latinky B) arabiky C) cyriliky D) srbiky
26. Ktoré z uvedených miest je najbližšie k Belehradu?  
A) Štokholm B) Oslo C) Helsinki D) Riga
27. Počas noci, keď je možné pozorovať Mesiac v Bratislave v splne, v Belehrade možno pozorovať Mesiac:  
A) v splne B) v prvej štvrti C) v nove D) v poslednej štvrti
28. V ktorom z uvedených miest žije početná slovenská menšina?  
A) Báčsky Petrovec B) Maribor C) Belehrad D) Niš
29. Ktorým z uvedených jazykov hovorí v súčasnosti **menej** obyvateľov Zeme ako po srbsky?  
A) po litovsky B) po portugalsky C) po poľsky D) po grécky
30. Ktoré z uvedených miest môže poškodiť cunami?  
A) Lagos B) Minsk C) Almaty D) Belehrad

Autor testu: L. Tolmáči, D. Gurňák

Test posúdili: P. Sadloň, A. Mydlová

Celoštátna komisia Geografickej olympiády

Vydal: IUVENTA – Slovenský inštitút mládeže, Bratislava 2017

Zúčastnení študenti:

Trieda:	Priezvisko a meno:	Získané body:
I.P	Kočišová Hana	25
	Kolárik Patrik	19
	Krchlíková Lenka	17
	Laurenčíková Denisa	15
	Lehotský Michal	16
	Šimunová Simona	21
I.HA	Bulejčíková Ema	19
	Denková Adriana	13
	Kováčiková Kristína	23
	Matejovičová Simona	16
	Rokošná Karolína	15
	Stískalová Veronika	14
	Šišková Katarína	18
	Valjentová Simona	19
	Straková Denisa	15
I.HB	Herc Branislav	17
	Jánošík Martin	7
I.HC	Balajová Marianna	14
	Forgáčová Vanesa	17
	Horná Patrícia	15
	Janechová Michaela	17
	Kováčik Dávid	20
	Vašková Mária	24

Ďakujeme všetkým za účasť.

Postupujúcich do krajského kola písomne osloví Celoštátna komisia Geografickej olympiády.

Ing. Ivica Košutová